

QUESTÃO 01

Leia o texto:


Pipas

Oriente seu filho para não soltar pipas perto da rede elétrica. É muito perigoso!

Se o fio da pipa encostar nela, o choque pode causar a morte.

Não use material ou fio metálico para fazer pipas, pois conduzem eletricidade.

Não use cerol, que é altamente cortante.



Releia a frase: “Se o fio da pipa **encostar nela**, o choque pode causar a morte”.

A expressão **nela** está referindo a:

- A) Rede elétrica
- B) Criança
- C) Mãe
- D) A pipa

QUESTÃO 02

Este texto serve para:

- A) Ensinar uma receita.
- B) Fornecer instruções de um jogo.
- C) Orientar sobre os riscos de choque elétrico.
- D) Ensinar uma brincadeira.

QUESTÃO 03

Leia os textos abaixo:

Texto 1

A água é um bem ambiental indispensável às necessidades humanas básicas (como a saúde e produção de alimentos) e ao desenvolvimento de atividades humanas, nomeadamente a agricultura, tendo influência decisiva na qualidade de vida das populações e na manutenção de ecossistemas.

Texto 2

A água contaminada (com elevada carga orgânica e agentes microbiológicos – bactérias e vírus), o saneamento inadequado e a falta de condições de higiene são apontados como responsáveis por mais de 80% das doenças dos países em desenvolvimento (como gastroenterites, hepatites, febres tifóides e cólera), pela morte de cerca de 6000 crianças por dia, assim como pela degradação da paisagem e perturbação dos ecossistemas.

*Disponíveis em: <www.confagri.pt/ambiente/áreas temáticas/água/texto síntese/antecedentes>. Fragmentos. Acesso em: 09 abr. 2010. *Adaptado: Reforma Ortográfica.*

Esses textos falam sobre:

- A) A morte de crianças.
- B) As doenças transmitidas pela água.
- C) A utilidade da água.
- D) A influência da água no ecossistema.

QUESTÃO 04

Leia o texto abaixo:

A GALINHA DOS OVOS DE OURO

Uma pessoa tinha uma galinha que punha ovos de ouro. Credo que ela tinha dentro do ventre um monte de ouro, matou-a e viu que ela era igual às outras galinhas. Na esperança de encontrar toda a riqueza de uma só vez, ficou privada até de um pequeno ganho.

Esopo. Fábulas completas. Trad. Neide Smolka. São Paulo: Moderna, 1998.

Essa história ensina que:

- A) A esperança dá riqueza às pessoas.
- B) As galinhas colocam ovos de ouro.
- C) Devagar se vai longe.
- D) Quem tudo quer tudo perde.

LEIA O TEXTO ABAIXO PARA RESPONDER ÀS QUESTÕES 5 E 6:

ZORRO

Dom Diego de la Vega levava uma vida tranquila na próspera fazenda de seu pai, Dom Alejandro de la Vega.

Seu empregado, Bernardo, testemunhou uma injustiça. Como era mudo, narrou o caso com grandes gestos.

Num segundo, Dom Diego se transformou em Zorro, o justiceiro mascarado. E partiu a galope, cortando a noite com seu cavalo negro.

Na cidade, Zorro desafiou o cruel sargento Garcia a um duelo. Ágil como um acrobata, Zorro saltou com sua espada e perseguiu o sargento. Mas os soldados do sargento chegaram, e Zorro precisou fugir. Então, deixou sua marca sobre o peito do malvado: um “Z” de Zorro.

O governador da província colocou a cabeça de Zorro a prêmio. Mas ele era o defensor dos fracos e oprimidos, e ninguém quis denunciá-lo.

E Zorro continuou seus combates em segredo.



QUESTÃO 05

De acordo com esse texto, o sargento Garcia era:

- A) ágil
- B) cruel
- C) mudo
- D) oprimido

QUESTÃO 06

No trecho “Mas ele era o defensor dos fracos e oprimidos,...”, a palavra “**ele**” está no lugar de:

- A) Bernardo
- B) Governador da Província
- C) Zorro
- D) Sargento Garcia

LEIA O TEXTO ABAIXO PARA RESPONDER AS QUESTÕES 07 E 08:

Um homem encontra um pinguim e não sabe o que fazer. O vizinho aconselha:

— Leve o bicho ao zoológico.

No dia seguinte, o vizinho encontra o homem ainda com o pinguim e pergunta:

— Ué! Você não levou o bicho para o zoológico?

— Levei, sim... e ele adorou! Hoje vamos ao cinema.



QUESTÃO 07

Que gênero textual é esse:

- A) Poesia.
- B) Bilhete.
- C) Propaganda.
- D) Piada.

QUESTÃO 08

O que torna o texto engraçado é:

- A) O homem encontrar um pinguim.
- B) O pinguim ser levado ao zoológico.
- C) O fato do homem ter entendido que deveria levar o pinguim para passear.
- D) O pinguim ter adorado ir ao zoológico.

QUESTÃO 09

LIÇÃO QUE SE APRENDE CEDO

Dia 14 de março, segunda-feira, é comemorado o Dia Internacional do Consumidor.

Talvez você ache que essa informação não tenha muito a ver com você, que ainda não é adulto e não tem um salário todo mês. Engano seu. Mesmo quando se compra só um chocolate na padaria da esquina, essa atitude vem acompanhada de direitos e deveres – tanto de quem compra quanto de quem vende – e que, muitas vezes, a gente nem se dá conta.

E, se você reparar bem, vai notar que boa parte das propagandas é voltada para o público infantil – ou seja, existem muitos produtos nas prateleiras das lojas esperando que você, consumidor mirim, os leve para casa. Isso pode ser perigoso, porque não é difícil chegar a um ponto em que se quer tudo o que é oferecido. Para fazer crianças e adolescentes consumidores responsáveis, agora e no futuro, nada melhor que a informação.

LENOIR, Carolina. Estado de Minas, Gurilândia. 13 mar. 2010. p.4.

De acordo com esse texto, a propaganda dirigida ao público infantil é perigosa porque:

- A) A criança pode querer comprar tudo o que lhe é oferecido.
- B) A criança se torna consciente de seus direitos e deveres.
- C) O público infantil pode querer ter um salário mensal.
- D) O público infantil se torna mais responsável no futuro.

QUESTÃO 10

Leia o texto e responda:

Conheça o robô que tem como local de trabalho a maior floresta tropical do mundo!

Ele tem uma tarefa muito importante: cuidar da floresta amazônica. Esse guardião é capaz de andar na água, na lama, na terra e na vegetação --- e sem fazer barulho, para não incomodar nem os animais nem os moradores do lugar. Ele também é forte, aguenta até mordida de jacaré! E consegue obter dados importantes sobre a Amazônia, além de coletar amostras do local. Ele é o robô ambiental híbrido Chico Mendes.

Disponível: www.cienciahoje.oul.com.br

Leia novamente a frase abaixo:

“Ele tem uma tarefa muito importante: cuidar da floresta Amazônica.”

Nessa frase, o uso dos dois pontos (:) serve para:

- A) Demonstrar surpresa.
- B) Anunciar uma explicação.
- C) Indicar que alguém vai falar.
- D) Marcar uma pergunta.

QUESTÃO 11

CONSUMO CONSCIENTE DE ÁGUA

Juliana aprendeu na aula de Ciências que temos recursos hídricos limitados, por causa da poluição dos rios provocada pela ocupação desordenada. Ela soube que uma pessoa chega a gastar 220 L de água por dia, quando a metade seria suficiente se houvesse consumo consciente.



Com que escrita fracionária você representa a metade dos litros de água citado acima:

- A) $1/3$
- B) $1/2$
- C) $2/2$
- D) $1\ 1/2$

QUESTÃO 12

Observe a tabela abaixo, ela mostra a data de nascimento de quatro alunos da Escola Érico Sofia Brandão:

NOME	DATA DE NASCIMENTO		
	DIA	MÊS	ANO
ANDREZA VITÓRIA	18	01	2007
GUILHERME OLIVEIRA	07	04	2007
FERNANDA LIMA	21	11	2006
LILIAN CAPINAN	03	11	2006

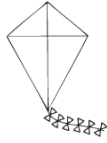
De acordo com os dados apresentados na tabela, o aluno(a) que nasceu primeiro é:

- A) Andreza Vitória.
- B) Guilherme Oliveira.
- C) Lilian Capinan.
- D) Fernanda Lima.

QUESTÃO 13

Qual dos objetos abaixo tem a forma que lembra um triângulo?


A)



B)



C)



D)



QUESTÃO 14

A Escola Municipal Leônicio Horácio de Almeida, situada no Povoado de Guaribas, foi inaugurada em 11 de outubro de 1987, atualmente funciona com 248 alunos matriculados. No ano de 2014 a escola ganhou o Prêmio Professores do Brasil com o Projeto: “Minhas Raízes Para Nunca Mais Esquecer”, desenvolvido pelo Professor Ronaldo Almeida Macedo.



No número **1987** o algarismo **8** ocupa a ordem da:

A) dezenas simples.

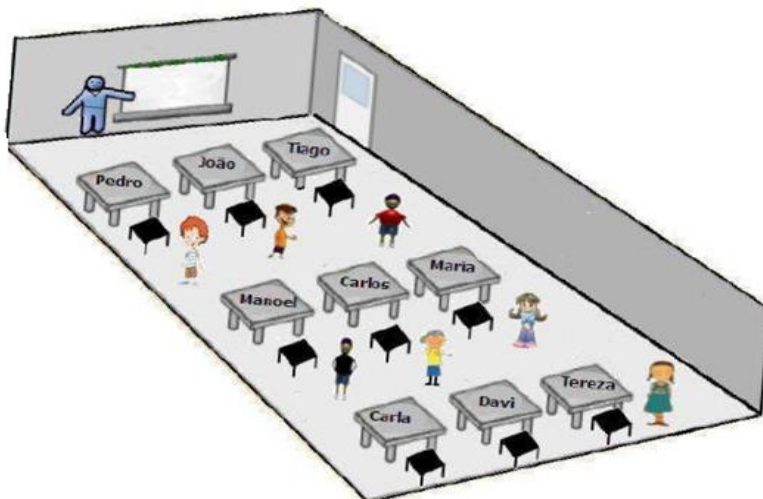
B) unidades simples.

C) centenas simples.

D) unidades de milhar.

QUESTÃO 15

Considerando que o desenho abaixo representa uma sala de aula e que você é o professor:

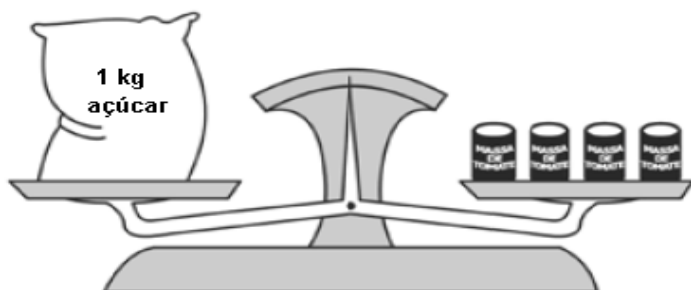


Qual a posição da carteira de Tiago em relação ao Professor?

- A) Segunda da esquerda para direita.
- B) Primeira da direita para a esquerda.
- C) Terceira da esquerda para direita.
- D) Terceira da direita para a esquerda.

QUESTÃO 16

No Mercadão “Boa União”, as mercadorias são pesadas numa balança de dois pratos. Um vendedor observou que a balança ficava em equilíbrio, quando ele colocava de um lado 1 kg de açúcar e do outro 4 latas de massa de tomate. Veja a ilustração abaixo.



1 kg de açúcar equivale a 4 latas de massa de tomate

Dessas latas de massa de tomate, quantas são necessárias para equilibrar 4 kg de açúcar?

- 12 latas.
- B) 8 latas.
- C) 16 latas.
- D) 20 latas.

QUESTÃO 17

João marcou no calendário abaixo o dia 16 de outubro, data em que iniciou uma reforma em sua casa.

OUTUBRO						
DOM	SEG	TER	QUA	QUI	SEX	SAB
1	2	3	4	5	6	7
8	9	10	11	12	13	14
15	16	17	18	19	20	21
22	23	24	25	26	27	28
29	30	31				

Essa reforma terminou no último dia desse mesmo mês. Quantos dias durou a reforma da casa de João? Lembrando que aos sábados e domingos o pedreiro não trabalhou:

- A) 11 dias
- B) 12 dias
- C) 16 dias
- D) 31 dias

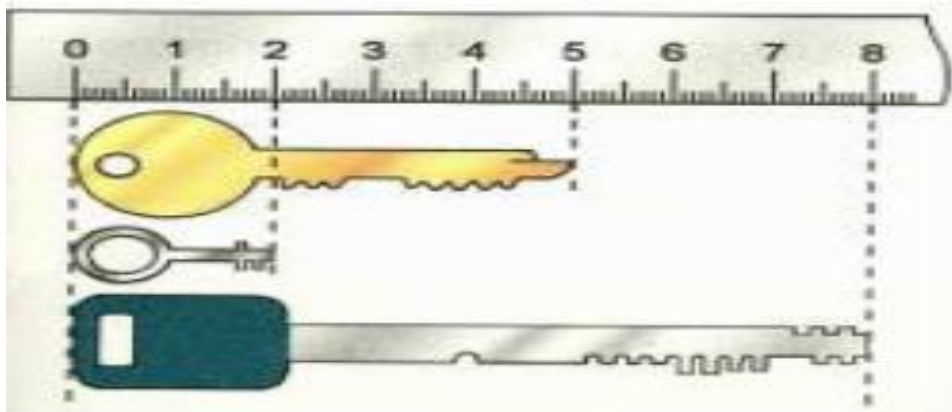
QUESTÃO 18

Bruna comprou alguns pães na padaria e recebeu de troco várias moedas. Ao chegar em casa com os pães, sua mãe disse que ela poderia ficar com as moedas para comprar um pacote de biscoito. Bruna tinha recebido de troco duas moedas de R\$ 0,25, quatro moedas de R\$ 0,10, duas moedas de R\$ 0,50 e três moedas de R\$ 0,05. Qual o valor que Bruna ganhou em moedas?

- A) R\$ 2,05
- B) R\$ 2,10
- C) R\$ 2,15
- D) R\$ 2,75

QUESTÃO 19

Observe a ilustração abaixo e observe o tamanho das chaves:



Qual a diferença em centímetros da chave maior para a chave menor?

- A) 5 cm.
- B) 2 cm.
- C) 8 cm.
- D) 6 cm.

QUESTÃO 20

Maurício comprou o aparelho de MP3 player apresentado abaixo:



Ele deu uma entrada de R\$ 187,00 e ainda irá pagar R\$ 154,00 em 30 dias. Quanto Maurício pagará pela compra do aparelho?

- A) R\$ 341,00
- B) R\$ 331,00
- C) R\$ 308,00
- D) R\$ 33,00