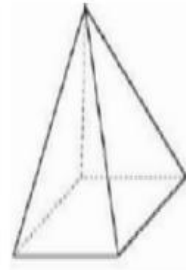






## QUESTÃO 12

A vela a seguir faz parte da coleção de Simone. E ela possui a forma de uma pirâmide de base quadrada como mostra a imagem.



Marque a alternativa que apresenta o total das faces e a base dessa vela.

- A) 
- B) 
- C) 
- D) 

## QUESTÃO 13

Luiz chegou à casa de Paulo às 9h: 45min para fazerem um trabalho da escola. Às 11h terminaram o trabalho e foram brincar. Em quanto tempo fizeram o trabalho?

- A) 1h00  
B) 1h10  
C) 1h15  
D) 1h30


## QUESTÃO 14

Senhor Osmar pediu a seu filho Ricardo que fosse a banca da esquina para trocar uma cédula de cinquenta reais por outras menores. Identifique, dentre as alternativas a seguir, a única que representa a troca correta da nota feita por Ricardo.



## QUESTÃO 15

Na malha quadriculada abaixo, está representada a horta que Maria plantou no quintal de sua casa.



Considerando-se que cada quadrado mede 1 metro quadrado, qual é a área da horta de Maria?


- A) 10 metros quadrados.
- B) 12 metros quadrados.
- C) 14 metros quadrados.
- D) 26 metros quadrados.

## QUESTÃO 16

A professora pediu a três alunos que interpretassem o número abaixo.

135

Veja o que eles fizeram.



Quem acertou?

- A) Jane e Afonso.
- B) Jane e Mateus.
- C) Mateus e Afonso.
- D) Somente Jane.

## QUESTÃO 17

Os alunos de uma escola aderiram à Campanha de Arrecadação de alimentos não perecíveis, roupas, água mineral e colchonetes, para ajudar as vítimas das fortes chuvas que atingiram a cidade de Juazeiro no mês de junho.

O 3º ano arrecadou 70 colchonetes e o 4º ano arrecadou 125 colchonetes.


O 4º ano arrecadou a mais

- A) 55 colchonetes.
- B) 95 colchonetes.
- C) 170 colchonetes.
- D) 195 colchonetes.



## QUESTÃO 18

O avô de Pedro organizou um sopão, para reunir a família e assistirem à estreia do Brasil na Copa de 2010. Veja o que ele gastou na compra dos ingredientes para fazer a sopa:



O avô de Pedro pagou as compras com **duas** notas de R\$ 20,00. O avô de Pedro recebeu de troco:

- A) R\$ 12,00
- B) R\$ 18,50
- C) R\$ 22,00
- D) R\$ 31,50

## QUESTÃO 19

Alex organizou a cômoda de sua filha Regina, conforme representada na figura a seguir:



Que porcentagem da cômoda da Regina corresponde aos brinquedos?

- A) 75%
- B) 50%
- C) 25%
- D) 20%

## QUESTÃO 20

Observe na Tabela abaixo o número de celulares vendidos no primeiro semestre de 2015:

MESES	Nº DE APARELHOS VENDIDOS
Janeiro	1.200
Fevereiro	2.420
Março	1.580
Abril	2.800
Maio	3.200
Junho	2.500

O total de telefones celulares vendidos nos três primeiros meses foi:

- A) 1.200
- B) 1.580
- C) 5.200
- D) 13.700

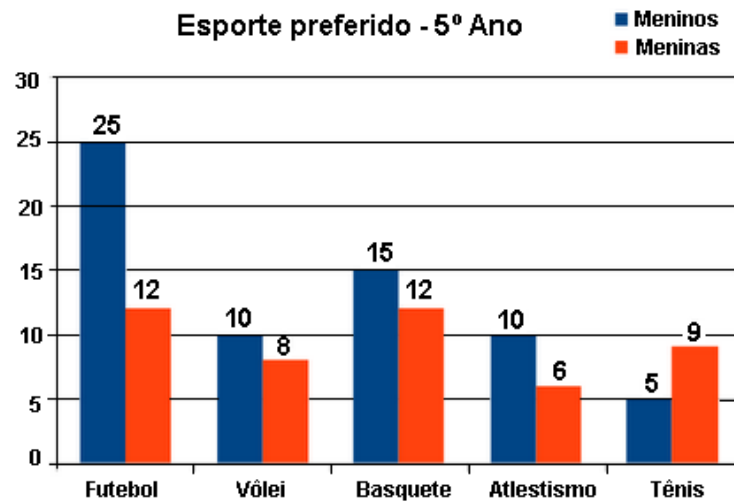
## QUESTÃO 21

A professora de matemática do 5º ano apresentou algumas igualdades para sua turma. Dentre elas a que está correta é

- A)  $\frac{3}{2} = 1$
- B)  $\frac{4}{2} = 3$
- C)  $\frac{1}{2} = 0,2$
- D)  $\frac{1}{4} = 0,25$

## QUESTÃO 22

Observe o gráfico a seguir que representa o resultado de uma pesquisa sobre o esporte preferido dos alunos do 5º ano.



O esporte menos votado pelas meninas foi:

- A) vôlei
- B) basquete
- C) tênis
- D) atletismo